

On trouve dans un document publié par l'Institut suisse de prévention de l'alcoolisme (ISPA) les informations suivantes :

Quand une personne consomme de l'alcool, celui-ci commence immédiatement à passer dans le sang. Plus le passage de l'alcool dans le sang est rapide, plus le taux d'alcool dans le sang augmentera rapidement, et plus vite on sera ivre. L'alcool est éliminé en majeure partie par le foie. Dans le foie, l'alcool est éliminé en deux étapes grâce à des enzymes. Dans un premier temps, l'alcool est transformé en éthanal par l'enzyme alcool déshydrogénase (ADH). L'éthanal est une substance très toxique, qui provoque des dégâts dans l'ensemble de l'organisme. Il attaque les membranes cellulaires et cause des dommages indirects en inhibant le système des enzymes. Dans un deuxième temps, l'éthanal est métabolisé par l'enzyme acétaldéhyde déshydrogénase (ALDH).

Alcool pur : Ethanol : C_2H_6O

↓ Enzyme ADH

Ethanal C_2H_4O

↓ Dégradation ultérieure...

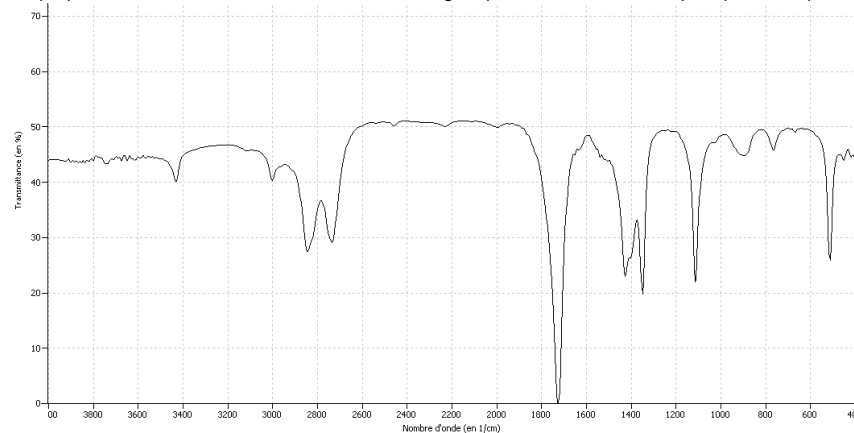
Synthèse du cholestérol

www.sfa-isp.ch

Document 1

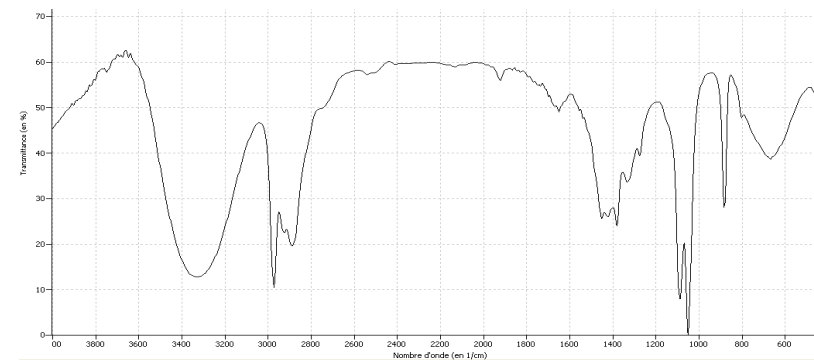
1. Spectroscopie

On se propose d'étudier la structure et les fonctions organiques de ces molécules par spectroscopie.



<http://www.sciences-edu.net>

Document 2a : Spectroscopie Infrarouge en phase liquide. Spectre IR1

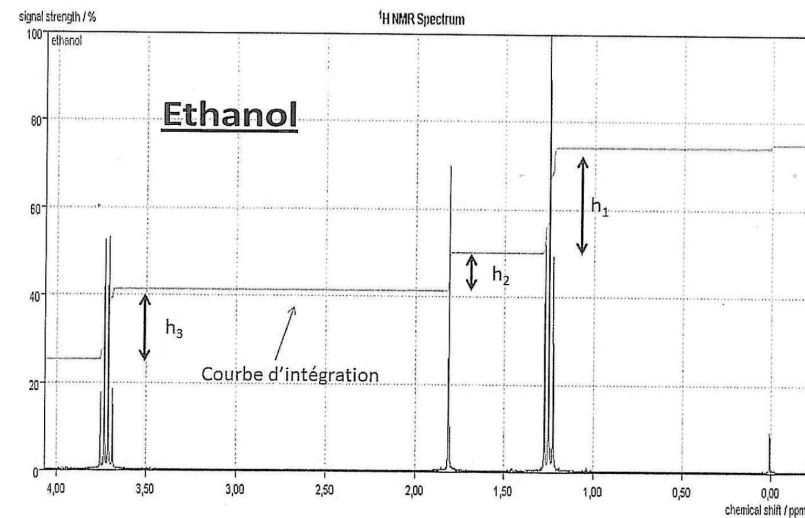


<http://www.sciences-edu.net>

Document 2b : Spectroscopie Infrarouge en phase liquide. Spectre IR2

Liaison	C - C	C - O	C = O (carbonyle)	C - H	O - H
Nombre d'onde (cm^{-1})	1000-1250	1050-1450	1650-1740	2800-3000	3200-3700

Document 2c : Table de données pour la spectroscopie IR



Document 3 : Spectre de RMN de l'éthanol

- 1.1. Le document 1 évoque les molécules d'éthanol et d'éthanal : représenter en formule semi-développée ces deux molécules et encadrer leurs fonctions caractéristiques.
- 1.2. Quel est le nom du groupe fonctionnel porté par l'éthanol ? À quelle famille appartient cette molécule ?

1.3. Quel est le nom du groupe fonctionnel porté par l'éthanal ? À quelle famille appartient cette molécule ?

1.4. En utilisant les données spectroscopiques du document 2, associer chaque spectre infrarouge (IR) à la molécule correspondante en justifiant.

1.5. Le document 3 présente le spectre RMN de l'éthanol. En utilisant la courbe d'intégration, calculer les rapports h_1/h_2 et h_3/h_2 .

1.6. Utiliser les rapports calculés pour associer aux trois massifs du spectre, les groupes de protons équivalents de l'éthanol.

1.7. Le massif de pics situé au déplacement chimique 1,25 ppm se présente sous la forme d'un triplet. En utilisant la règle des (n+1)-uplets, justifier cette multiplicité en évoquant le nombre d'atomes d'hydrogène voisins.

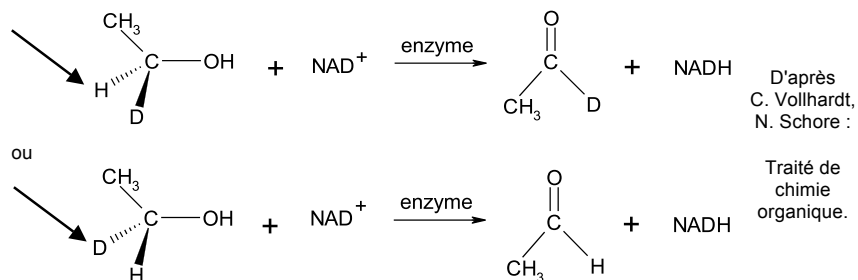
2. Mécanisme de métabolisation des alcools.

Après étude de la structure de ces molécules, nous allons étudier le mécanisme biochimique expliquant leur transformation dans l'organisme.

La métabolisation des alcools implique leur oxydation en composés carbonylés. Dans les systèmes biologiques, l'éthanol est transformé en éthanal grâce à un oxydant noté NAD^+ . La réaction est catalysée par une enzyme appelée alcool-déshydrogénase.

En substituant un atome d'hydrogène par un atome de deutérium D, on peut mettre en évidence le rôle énantiosélectif de cette enzyme.

En soumettant les deux énantiomères du 1-deutéroéthanol à l'action de l'enzyme, on a pu établir que l'oxydation biochimique était stéréospécifique, le NAD^+ arrachant uniquement l'hydrogène marqué ci-dessous par une pointe de flèche noire.



2.1. Quel est le nom de la représentation chimique utilisée dans le mécanisme ci-dessus pour l'alcool ?

2.2. Que représentent les traits pointillés et les traits épais ?

2.3. En vous basant sur cette représentation, développer complètement la molécule d'éthanol en faisant apparaître toutes les liaisons.

2.4. Quelle particularité stéréochimique possède le carbone porteur du deutérium dans la molécule de deutéroéthanol ? Comment nomme-t-on ce type de molécules ?

2.5. L'éthanal obtenu par oxydation se présente-t-il sous la forme d'un mélange d'énantiomères ? Justifier.

2.6. La dégradation de l'alcool dans l'organisme est une réaction catalysée. Donner la définition d'un catalyseur. Quel type de catalyse est présenté ici ?