

EXERCICE C - QUELLE TAILLE POUR LES MAILLES D'UN TAMIS ? (5 points)

Mots-clés : diffraction et interférences d'ondes lumineuses

Les artémies (voir photo ci-contre) sont des crustacés élevés pour nourrir les poissons des aquariums. Leur taille doit être adaptée à l'espèce de poisson à nourrir. On utilise des tamis calibrés pour les sélectionner.

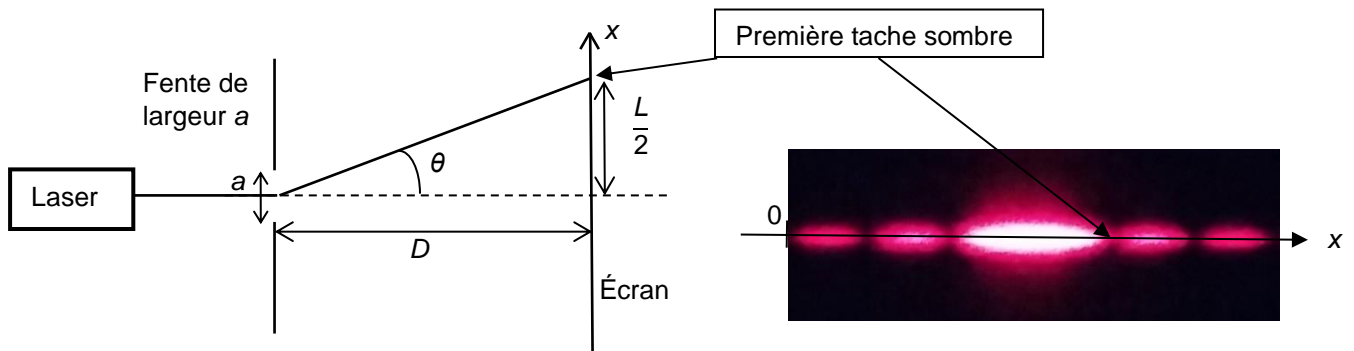


Source : <https://fr.m.wikipedia.org>

On se propose dans cet exercice de déterminer la taille des mailles d'un tamis en utilisant une diode laser de longueur d'onde $\lambda = (650 \pm 10)$ nm.

1. Vérification de la valeur de la longueur d'onde de la diode laser utilisée

Pour vérifier la valeur de la longueur d'onde de la diode laser annoncée par le constructeur, on réalise une expérience dont le schéma est donné ci-dessous (figure 1).



Distance fente – écran : $D = 56$ cm
 Largeur de la fente calibrée : $a = 80 \mu\text{m}$

Figure 2. Figure observée sur l'écran

Figure 1. Schéma de l'expérience (échelle non respectée)

1.1. Nommer le phénomène physique responsable des taches lumineuses observées sur l'écran. Discuter qualitativement de l'influence de la largeur de la fente et de la longueur d'onde de l'onde incidente sur le phénomène observé.

(0,5 pt) Ce phénomène se nomme la diffraction. Ce phénomène est d'autant plus marqué que la largeur de la fente a est petite face à la longueur d'onde λ de la lumière, ainsi l'écart angulaire θ sera plus grand.

1.2. On rappelle que l'angle θ est donné par la relation $\theta = \frac{\lambda}{a}$ et on considère que $\tan \theta \approx \theta$ pour les petits angles ($\theta \ll 1$ rad). Déterminer l'expression de l'angle θ en fonction de la largeur L de la tache centrale et de D . En déduire l'expression de la longueur d'onde λ en fonction de L , a et D .

(0,75 pt) On a un triangle rectangle dont le côté opposé a une longueur égale à $L/2$ et le côté adjacent a une longueur égale à D .

$$\tan \theta \approx \theta = \frac{\frac{L}{2}}{D} \text{ ainsi } \theta = \frac{L}{2D}$$

Et comme $\theta = \frac{\lambda}{a}$ alors $\frac{\lambda}{a} = \frac{L}{2D}$, finalement $\lambda = \frac{L \cdot a}{2D}$

Pour faire une mesure précise, on remplace l'écran par une caméra qui permet d'obtenir l'intensité lumineuse relative* en fonction de la position x , repérée selon l'axe indiqué sur la photo de la figure 2. L'origine $x = 0$ m est prise sur le bord du capteur de la caméra. On obtient alors la figure 3.

* L'intensité lumineuse relative est le rapport de l'intensité lumineuse reçue par le capteur sur l'intensité maximale reçue.

1.3. Déterminer la valeur de la longueur d'onde de la diode laser utilisée en exploitant la courbe obtenue sur la figure 3. La comparer à la valeur indiquée par le constructeur.

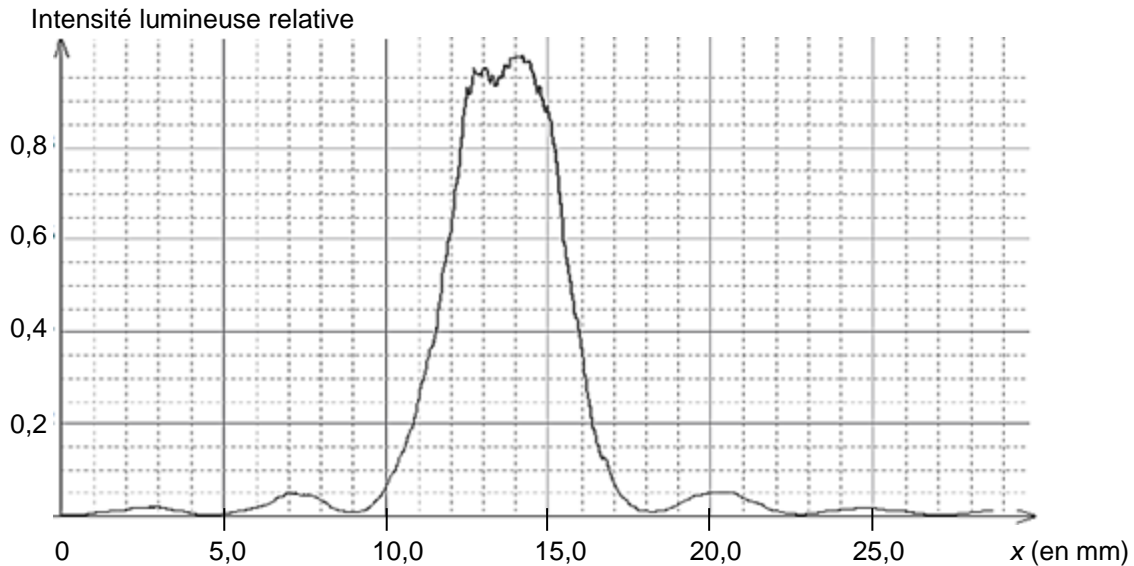


Figure 3. Intensité lumineuse relative en fonction de la position sur l'écran

(0,75 pt) Sur la figure 3, on mesure la largeur L de la tache centrale $L = 18,0 - 9,0 = 9,0$ mm.

$$\lambda = \frac{L \cdot a}{2D}$$

$$\lambda = \frac{9,0 \times 10^{-3} \times 80 \times 10^{-6}}{2 \times 56 \times 10^{-2}} = 6,4 \times 10^{-7} \text{ m} = 643 \text{ nm.}$$

$$\frac{9E-3 * 80E-6}{2 * 56E-2}$$

$$6.428571429E-7$$

Le fabricant indique $\lambda = (650 \pm 10)$ nm, ainsi en tenant compte de l'incertitude de 10 nm, on constate que notre mesure est compatible avec celle du fabricant.

2. Calibrage du tamis de récupération

Le but de cette partie est de vérifier que le tamis disponible, dont le maillage est représenté sur la figure 5, permet de récupérer toutes les artémies d'une taille supérieure à 150 μm . On réalise une expérience d'interférences pour évaluer les dimensions du tamis en utilisant la diode laser précédente. La largeur du fil plastique constituant le tamis est égale à 230 μm .

L'expérience d'interférences est décrite ci-dessous :

- le montage utilisé est donné sur la figure 4 ;
- on utilise la diode laser de longueur d'onde $\lambda = (650 \pm 10)$ nm. La distance entre le tamis et l'écran vaut $D = (7,75 \pm 0,03)$ m ;
- on note b la distance entre les centres de deux trous consécutifs du maillage du tamis ;
- la figure d'interférences obtenue est donnée sur les figures 6 et 7.

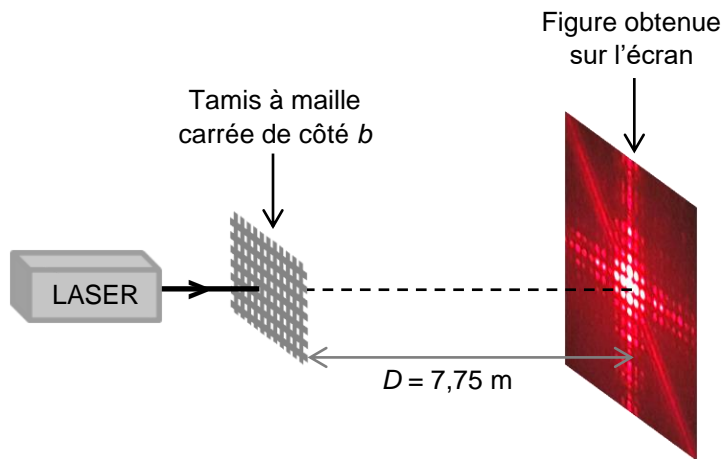


Figure 4. Montage utilisé (échelle non respectée)

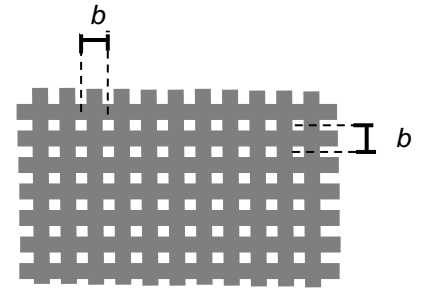


Figure 5. Schéma du maillage du tamis

2.1. Expliquer brièvement, sans calcul, l'origine de la présence de zones sombres et de zones brillantes dans une figure d'interférences lumineuses.

(0,5 pt) Chaque maille du tamis se comporte comme une source de lumière. Toutes ces sources interfèrent entre elles. Les zones sombres sont dues à des interférences destructives : en ces points de l'écran les ondes parviennent en opposition de phase. Tandis que les zones brillantes correspondent à des interférences constructives où les ondes parviennent en phase.

Le centre de la figure d'interférences de la figure 6 est représenté sur la figure 7 ci-dessus à l'échelle 1/1. L'interfrange, noté i , est défini comme la distance entre les centres de deux taches lumineuses successives selon l'axe identifié sur la figure 7.

L'expression de l'interfrange est donnée par la relation : $i = \frac{\lambda \times D}{b}$.

L'incertitude-type $u(b)$ sur la grandeur b peut se calculer à partir de la relation :

$$\frac{u(b)}{b} = \sqrt{\left(\frac{u(D)}{D}\right)^2 + \left(\frac{u(i)}{i}\right)^2 + \left(\frac{u(\lambda)}{\lambda}\right)^2}$$

où $u(x)$ désigne l'incertitude-type associée à la grandeur x




Figure 6. Figure d'interférences obtenue




Figure 7. Tache centrale de la figure d'interférences à l'échelle 1/1

2.2. Évaluer la valeur de l'interfrange i en explicitant la méthode suivie pour obtenir la meilleure précision.
Évaluer l'incertitude-type $u(i)$ sur la mesure de l'interfrange i .

(0,5 pt) Voir figure 7. Pour une meilleure précision, on mesure plusieurs interfranges.

$$4i = 5,9 \text{ cm}$$

$$i = 1,5 \text{ cm}$$

Lors d'une mesure à la règle, on peut estimer l'incertitude égale à la demi-graduation donc à $u(i) = 0,05 \text{ cm}$.

On accepte aussi $u(i) = 0,1 \text{ cm}$.

2.3. Calculer b puis évaluer $u(b)$.

$$(1 \text{ pt}) i = \frac{\lambda \cdot D}{b} \text{ donc } b = \frac{\lambda \cdot D}{i}$$

$$b = \frac{650 \times 10^{-9} \times 7,75}{1,5 \times 10^{-2}} = 3,4 \times 10^{-4} \text{ m}$$

$$\frac{650\text{E-9} * 7.75}{1.5\text{E-2}} = 3.358333333\text{E-4}$$

$$\frac{u(b)}{b} = \sqrt{\left(\frac{u(D)}{D}\right)^2 + \left(\frac{u(i)}{i}\right)^2 + \left(\frac{u(\lambda)}{\lambda}\right)^2}$$

$$u(b) = b \cdot \sqrt{\left(\frac{u(D)}{D}\right)^2 + \left(\frac{u(i)}{i}\right)^2 + \left(\frac{u(\lambda)}{\lambda}\right)^2}$$

$$3.358333333\text{E-4} * \sqrt{\left(\frac{0.03}{7.75}\right)^2 + \left(\frac{0.1}{1.5}\right)^2} = 1.239758165\text{E-5}$$

$$u(b) = 3,358 \times 10^{-4} \times \sqrt{\left(\frac{0,03}{7,75}\right)^2 + \left(\frac{0,05}{1,5}\right)^2 + \left(\frac{10}{650}\right)^2} = 1,3 \times 10^{-5} \text{ m}$$

On arrondit par excès à un seul chiffre significatif $u(b) = 2 \times 10^{-5} \text{ m} = 0,2 \times 10^{-4} \text{ m}$

$$b = (3,4 \pm 0,2) \times 10^{-4} \text{ m}$$

2.4. Indiquer si le tamis étudié permet de récupérer les artémies voulues. Justifier.

(1 pt) On veut récupérer les artémies d'une taille supérieure à $150 \mu\text{m}$.

La largeur du fil plastique constituant le tamis est égale à $230 \mu\text{m}$.

t largeur du trou, f largeur du fil

$$b = t + f$$

$$t = b - f$$

$$t = 3,4 \times 10^{-4} - 230 \times 10^{-6} = 3,4 \times 10^{-4} - 2,30 \times 10^{-4} = 1,1 \times 10^{-4} \text{ m} < 150 \times 10^{-6} \text{ m}$$

En considérant la valeur maximale de b : $b = (3,4 + 0,2) \times 10^{-4} = 3,6 \times 10^{-4} \text{ m}$

$$t = 3,6 \times 10^{-4} - 230 \times 10^{-6} = 3,6 \times 10^{-4} - 2,30 \times 10^{-4} = 1,3 \times 10^{-4} \text{ m} < 150 \times 10^{-6} \text{ m}$$

Les artémies sont plus larges que le trou, elles seront donc bien récupérées dans le tamis.

